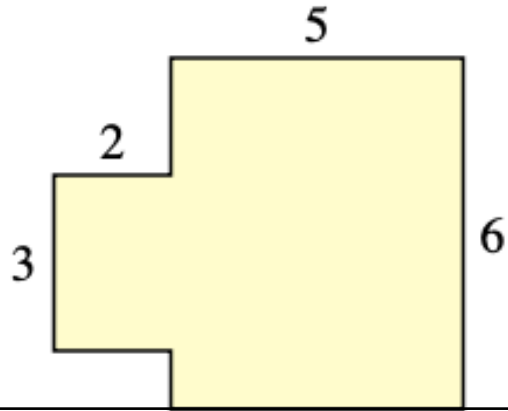


Somos Cirujanos

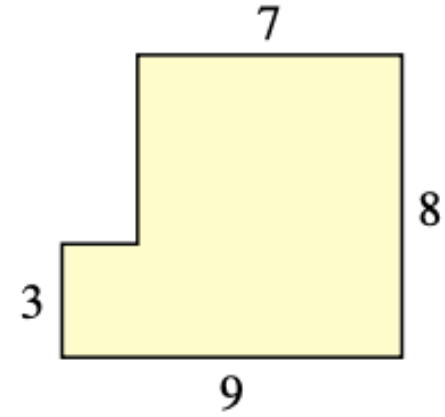
Me llamo:

Directions: Find the area and perimeter of the rectilinear shapes. Then, write the answers in word form (in Spanish).



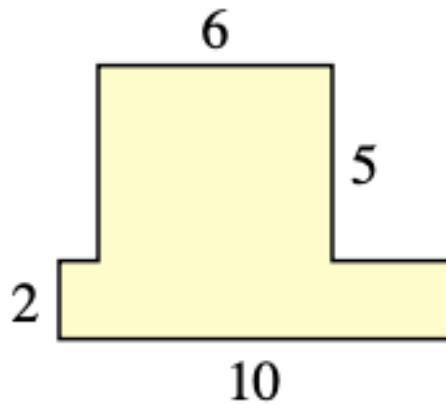
Perímetro:

Area:



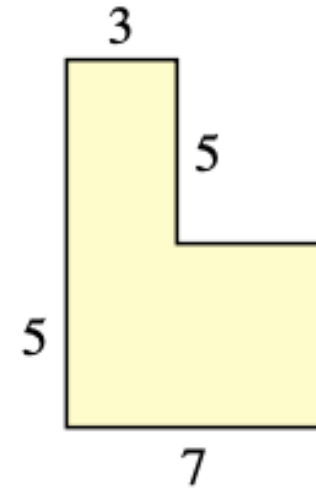
Perímetro:

Area:



Perímetro:

Area:



Perímetro:

Area:

Me llamo:

Contando por cientos

- 100 cien •600 seiscientos
•200 doscientos •700 setecientos
•300 trescientos •800 ochocientos
•400 cuatrocientos •900 novecientos
•500 quinientos •1,000 mil

Direcciones: Completa las secuencias numéricas y escribe los números en español.

	200	300	400
100	200	400	
1,000	700		100
600		800	900